

受検番号	
------	--

社 会

注 意

- 1 開始の合図があるまで、問題用紙を開いてはいけません。
- 2 解答は、全て解答用紙に記入ください。
- 3 解答を選択肢から選ぶ問題は、記号で書きください。
- 4 問題用紙は、冊子の形になっています。
- 5 問題は、表紙の裏を1ページとし、6ページまであります。開始の合図で問題用紙の各ページを確認し、始めください。
- 6 問題用紙の表紙と解答用紙の受検番号欄に、それぞれ受検番号を記入ください。

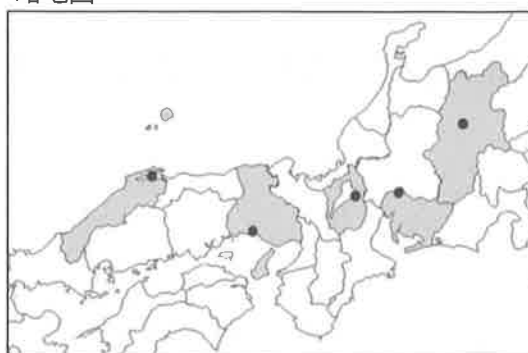
1 天守が国宝に指定されている城がある5つの県に関する資料や略地図について、後の1から5までの各問いに答えなさい。

資料1 天守が国宝に指定されている5つの城

城の名前	所在地	7 地方区分
松本城	長野県松本市	() 地方
犬山城	愛知県犬山市	
彦根城	滋賀県彦根市	近畿地方
姫路城	兵庫県姫路市	
松江城	島根県松江市	中国・四国地方

[令和4年12月現在]

略地図



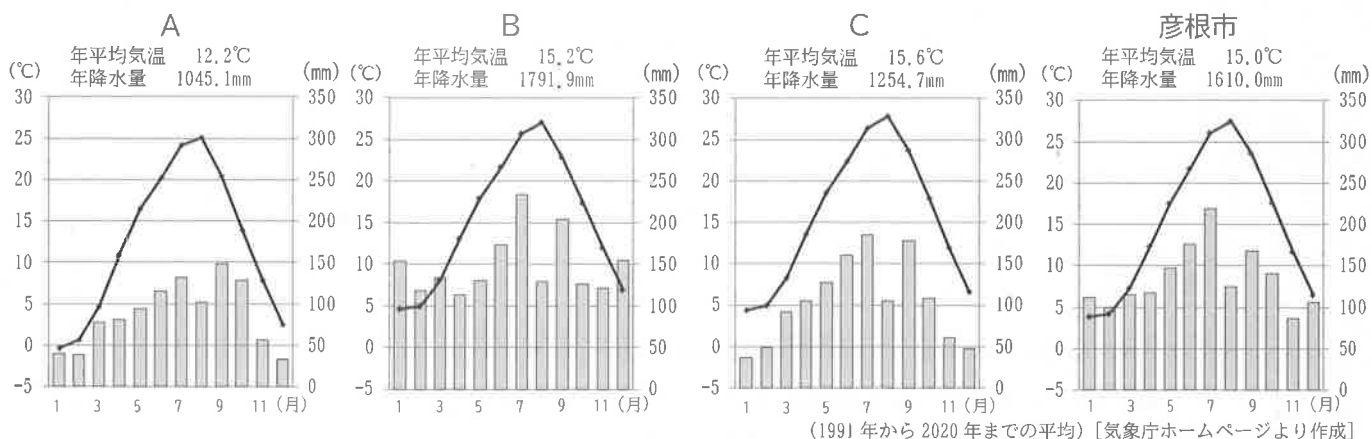
■ : 資料1の5県 ● : 5つの城の所在地

資料2 製造品出荷額に占める上位4産業の割合(2019年)

県名	長野県		愛知県		滋賀県		兵庫県		島根県	
	産業	割合	産業	割合	産業	割合	産業	割合	産業	割合
上位4産業の割合(%)	情報通信機械	17.5	輸送用機械	55.4	輸送用機械	13.5	化学	13.2	電子部品	19.6
	電子部品	11.9	電気機械	5.8	化学	12.8	鉄鋼	12.0	情報通信機械	14.2
	生産用機械	11.4	鉄鋼	5.0	電気機械	9.3	輸送用機械	10.7	鉄鋼	13.4
	食料品	9.5	生産用機械	4.9	はん用機械	9.2	食料品	10.4	輸送用機械	6.7
	その他	49.7	その他	28.9	その他	55.2	その他	53.7	その他	46.1
製造品出荷額(億円)	62,194		481,864		80,754		163,896		12,488	

[「データでみる県勢2022」より作成]

資料3 雨温図



(1991年から2020年までの平均) [気象庁ホームページより作成]

- 1 資料1の()にあてはまる地方名を7地方区分によって書きなさい。
- 2 資料2は、5つの県における製造品出荷額と、製造品出荷額に占める上位4産業の割合を示したものです。資料2と略地図から読み取れることとして適切なものはどれか。次のアからエまでのの中から1つ選びなさい。

- ア 5つの県のうち太平洋ベルトに位置しているのは、兵庫県だけである。
 イ 長野県の電子部品の製造品出荷額は、島根県の電子部品の製造品出荷額より少ない。
 ウ 5つの県のうち海に面している県は、製造品出荷額上位4産業に鉄鋼が入っている。
 エ 5つの県のうち製造品出荷額が最も多い県は、阪神工業地帯に位置している。

- 3 資料3について、A, B, Cは、松本市、姫路市、松江市のいずれかです。3つの都市の正しい組み合わせはどれか。次のアからカまでのの中から1つ選びなさい。

- ア A 松本市 B 姫路市 C 松江市 イ A 松本市 B 松江市 C 姫路市
 ウ A 姫路市 B 松江市 C 松本市 エ A 姫路市 B 松本市 C 松江市
 オ A 松江市 B 姫路市 C 松本市 カ A 松江市 B 松本市 C 姫路市

4 次の文は、地形図上に示した、松江城と松江城周辺の調査の道順を説明したものです。この文には、誤っている語句が2つあります。誤っている語句を下線部アからオまでの中から2つ選び、それぞれ正しい語句を書きなさい。

X地点を出発地、X地点からみて8方位で ア 南東 の方角にあるY地点を最終地として、地形図上に破線と矢印で示した経路で進みます。地形図上のX地点からY地点までの直線の長さは8cmであることから、実際のX地点からY地点までの直線距離は イ 2km です。

X地点を出発して ウ 市役所 の横を通って進み、交差点を左に曲がって松江城に行き、天守を見学します。

天守を見学したあと、Y地点に向かいます。松江城から国道431号までの間には、松江城を出てすぐに エ 図書館 があり、さらに進むと オ 寺院 があります。

国道まで行き、国道にそって進むと交差点があり、この交差点を右に曲がって進むとY地点に到着します。

地形図 (縮尺1:25,000)



----- : 調査の経路を示す破線
 → : 進む方向を示す矢印

[国土地理院 電子地形図 25000 より作成]

5 滋賀県と島根県の共通点をまとめた表について、後の(1)から(3)までの問いに答えなさい。

表 滋賀県と島根県の共通点

県名	滋賀県	島根県	
天守が国宝に指定されている城	彦根城	松江城	
世界遺産(文化)	彦根城の登録を目指している。	①石見銀山遺跡とその文化的景観	
世界農業遺産	森・里・湖に育まれる漁業と農業が織りなす琵琶湖システム	奥出雲の農村開発システムの認定を目指している。	
大きな湖	湖の名前	琵琶湖	宍道湖(しんじこ)
	②漁業の取組	ニゴロブナの稚魚やセタシジミの稚貝などの放流	ワカサギの稚魚やシジミの稚貝の放流
	③エコツーリズムの例	琵琶湖や琵琶湖に流れ込む川の自然を、小さな船を自分でこぎながら観察する。	宍道湖の生態系や水産資源について学びながら、宍道湖を船でめぐる。

[滋賀県ホームページなどより作成]

(1) 表の下線部①に関連して、資料4は2019年の銀鮭の生産の多い国、メモはそのうちの1か国について調べたものです。メモはどここの国を調べたものか。資料4のアからカまでの中から1つ選びなさい。

資料4 銀鮭生産量上位6か国(2019年)

ア メキシコ	イ ペルー
ウ 中国	エ ロシア
オ ポーランド	カ チリ

[「世界国勢図会 2022/23」より作成]

メモ

- キリスト教徒のしめる割合が高い。
- 北半球に位置している。
- かつては、スペインの植民地であった。

(2) 表の下線部②に関連して、稚魚や稚貝を放流し、育ってから漁獲する漁業を何というか。書きなさい。

(3) 表の下線部③に関連して、資料5は滋賀県のエコツーリズムの例、下の文はエコツーリズムの目的を説明したものです。文の()にあてはまる適切な内容を、表のエコツーリズムの例と資料5のエコツーリズムの例を参考にして考え、「理解」という語句を用いて、30字以上、40字以内で書きなさい。

資料5 滋賀県のエコツーリズムの例

- 伝統工芸の職人に教えてもらい、木彫りの体験をして、地域の文化を学ぶ。
- 田んぼの自然観察や農作業の体験をして、地域の自然や文化を学ぶ。

[滋賀県ホームページより作成]



エコツーリズムの目的

観光客が観光を楽しむことだけでなく、体験や学びをとおして、()を目的としている。また、地域の住民が地域の魅力を見なおすことなどにより、地域が活性化することも目的としている。



2 「木材の利用」, 「金の利用」をテーマとしてまとめたノートについて, 次の1, 2の各問いに答えなさい。

1 「木材の利用」に関連して, ノート1, ノート2をみて, 後の(1)から(5)までの問いに答えなさい。

ノート1 〈木材を利用した建築に関するノート〉

資料1 正倉院 	資料2 東大寺南大門 	資料1のメモ 奈良時代には, ① <u>唐の文化の影響を受けた国際色豊かな文化が栄えました。</u> 資料2のメモ (A)
--	---	--

ノート2 〈木材を利用した船に関するノート〉

資料3 貿易に使われた船 	資料4 パリーが率いた黒船 	資料3のメモ 江戸時代のはじめ, ② <u>大名や商人は大きな船で東南アジアの国々と貿易を行いました。</u> しかし, 1635年に日本人の海外渡航は禁止されました。 資料4のメモ 江戸時代の終わりに, パリーが率いてきた黒船は, 日本船より大きく, ③ <u>動力も日本船と違っていました。</u> この後, ④ <u>アメリカとの貿易が始まりました。</u>
---	--	---

- (1) ノート1の下線部①について, この文化を何というか。書きなさい。
- (2) ノート1の(A)に入る次の文には, 誤っている語句が1つあります。誤っている語句を下線部アからウまでの中から1つ選び, 正しい語句を書きなさい。

ア 鎌倉時代 に再建された東大寺南大門は, 10世紀に中国を統一した イ 元 の様式を取り入れています。また, 門の中には ウ 運慶 がつくった金剛力士像がおかれています。

- (3) ノート2の下線部②について, 徳川家康は, 大名や商人に海外渡航を許可する資料5のような証書を与えて貿易を行わせました。これを何貿易というか。書きなさい。

資料5




- (4) ノート2の下線部③について, パリーが率いた黒船は18世紀にイギリスで改良された動力を使っていました。この動力を何というか。漢字4字で書きなさい。
- (5) ノート2の下線部④に関連して, アメリカと日本に関する次のアからエまでのできごとを年代の古い順にならべかえなさい。

- ア アメリカの仲介によって講和会議が開かれ, ポーツマス条約が結ばれた。
イ アメリカの呼びかけで行われたワシントン会議で, 日英同盟が解消した。
ウ 岩倉具視を代表とする使節団がアメリカを訪問した。
エ ニューヨークの株価の大暴落をきっかけとして世界恐慌がおこり, その影響が日本に及んだ。

2 「金の利用」に関連して、ノート3、ノート4をみて、後の(1)から(5)までの問いに答えなさい。

ノート3 〈金を利用した仏像や絵画に関するノート〉

資料6 平等院鳳凰堂 資料7 唐獅子図屏風
阿弥陀如来像



資料6のメモ

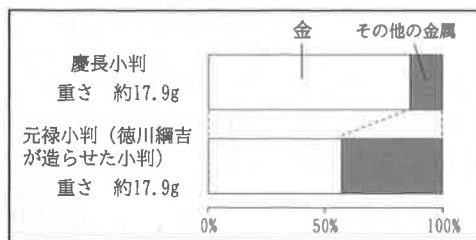

平安時代、社会が不安定になると、(B), 阿弥陀如来に救いを求め、極楽浄土へ生まれ変わることを願う浄土信仰が広まりました。

資料7のメモ

戦国時代には鉱山が開発され金の産出が増えました。戦国大名や⑤商人の豊かな経済力を反映して、力強く豪華な絵がえががれました。

ノート4 〈金を利用した貨幣やメダルに関するノート〉

資料8 小判 資料9 小判に関する資料



[日本銀行金融研究所資料などより作成]

資料8・資料9のメモ

江戸幕府は貨幣をたびたび造りなおしました。徳川綱吉が造らせた小判は、物価を上昇させました。

資料10・資料11のメモ

2021年のオリンピック・パラリンピック東京大会では、メダルの材料が人々の協力で集められました。

表のメモ

社会の変化にともない、貨幣の価値や金の生産・調達の方法も変化しています。

資料10 メダルの材料を集めるプロジェクトに関する資料

携帯電話などに含まれる金属

金属	携帯電話	ノートパソコン
金	約 0.05g	約 0.30g
銀	約 0.26g	約 0.84g
銅	約 12.60g	約 81.60g

集められた携帯電話などの基板



[環境省ホームページなどより作成]

資料11 滋賀県出身の金メダリスト



表 貨幣の価値と金の生産

時代	江戸時代	現代の日本
貨幣の価値	(C) により価値が決まった。	通貨の量や⑥外国の通貨との交換比率などの要因により価値が決まる。
金の生産・調達	戦国大名などが開発した鉱山で採掘した。	鉱山での採掘だけでなく、持続可能な社会の実現を目指す取組として、(D) ことが行われている。

(1) ノート3の(B)にあてはまる適切な内容を、次のアからエまでの中から1つ選びなさい。

- ア 祈とうをすることによって イ 座禅をすることによって
ウ 念仏をとこなえることによつて エ 題目をとこなえることによつて

(2) ノート3の下線部⑤に関連して、次のメモは戦国時代のある都市についてまとめたものです。この都市はどこか。書きなさい。

メモ ● 自治的な運営が行われた。 ● 鉄砲がさかんに生産された。 ● この都市の商人がわび茶の作法を完成した。

(3) ノート4の表の下線部⑥のことを何というか。書きなさい。

(4) ノート4の表の(C)にあてはまる適切な内容を資料9を参考にして考え、10字以内で書きなさい。

(5) ノート4の表の(D)にあてはまる適切な内容を資料10と資料11を参考にして考え、15字以上、30字以内で書きなさい。

- 3 陽菜さんのクラスでは、公民の授業で学習した内容について、班ごとに表のようなテーマを決めて調べることになりました。後の1から3までの各問いに答えなさい。

表

班	テーマ
A	基本的人権について
B	日本の行政について
C	国際社会について

- 1 A班はテーマについて調べる中で、資料1と資料2を見つけました。次の(1)、(2)の問いに答えなさい。

- (1) 資料1は、人類の普遍的な権利を保障するため1948年に国際連合で採択されたものの一部です。これを何というか。書きなさい。

資料1

第1条 すべての人間は、生まれながらにして自由であり、かつ、尊厳と権利について平等である。人間は、理性と良心とを授けられており、互いに同胞の精神をもって行動しなくてはならない。

- (2) 自分の意思を記入した資料2のカードを持つことは、日本国憲法第13条を根拠にしている自己決定権が尊重された例です。この自己決定権と同じように、新しい人権として分類されるものはどれか。次のアからエまでのの中から1つ選びなさい。

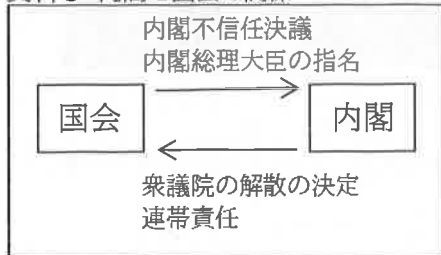
資料2



- ア 国や地方公共団体に、法律や条例の制定など政治に対する要望をする権利。
 イ 誰もが学校に通い、無償の義務教育を受けることができる権利。
 ウ 職業選択や居住・移転などの経済活動を自由にできる権利。
 エ 正しい政治判断をするために、国や地方公共団体に情報の公開を求める権利。

- 2 B班ではテーマについて調べ、資料3、資料4、発表原稿を使って発表することになりました。後の(1)から(3)までの問いに答えなさい。

資料3 内閣と国会の関係



資料4 規制緩和の例

2017年 民泊に関する新しい法律が成立
 ↓
 日本では民泊が禁止されていたが、この法律により、都道府県への届け出があれば可能となった。

発表原稿

国会は、資料3で示される(①)のしくみに基づき②行政を適切に監督しなければなりません。近年、行政の仕事は増加し、政府の役割が大きくなる「行政権の拡大」という状態があるため、行政を効率化する行政改革が進められています。また資料4のような規制緩和の取組を行うことによって、(③)という効果があると考えられます。

- (1) 発表原稿の(①)にあてはまる、内閣が国会に対して責任を負うしくみを何というか。5字で書きなさい。

- (2) 発表原稿の下線部②について、正しく説明したものを、次のアからエまでのの中から1つ選びなさい。

- ア 内閣は、内閣の採決で可決し、成立した法律や予算を実施する役割をもつ。
 イ 内閣は、住民生活に身近な民主主義を行う場で、「民主主義の学校」とよばれている。
 ウ 内閣のもとで各省庁が仕事を分担し、公務員が実際の仕事を行っている。
 エ 内閣総理大臣は、国会の2つの議院のうち、衆議院でのみ指名される。

- (3) 発表原稿の(③)にあてはまる適切な内容を、次のアからエまでのの中から1つ選びなさい。

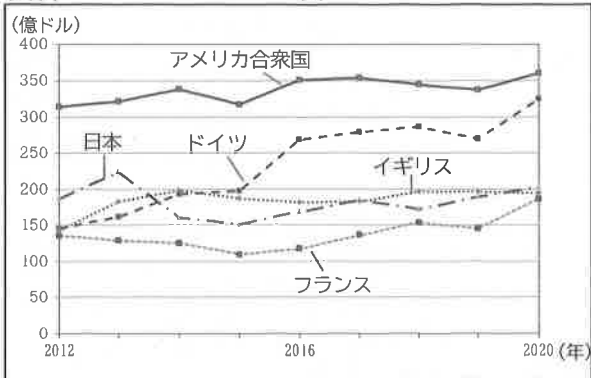
- ア 自由な経済活動が促される
 イ 公務員の人数が増加する
 ウ 公共サービスが増加する
 エ バリアフリー化が進む

3 C班はテーマについて調べ、資料を見ながら話し合いをしました。後の(1)から(3)までの問いに答えなさい。

話し合い

陽菜さん：私は日本が国際協調の理念として掲げる、④「人間の安全保障」という考え方に共感しました。
 大翔さん：国際連合も「持続可能な開発目標（SDGs）」を採択し、17の目標を掲げていますね。
 陽菜さん：17の目標の中で、私は特に「貧困をなくそう」という目標に注目しています。貧困をなくす取組の1つとして、資料5、資料6のように、先進国の政府を中心に⑤政府開発援助（ODA）が行われていることを知りました。
 大翔さん：私は日本による社会資本への支援例と、⑥マイクロクレジットへの支援例をノートにまとめました。雇用機会の改善など、農村経済全体の成長を考えた支援があることを知りました。こうした支援により、世界から貧困がなくなることを期待します。

資料5 2020年のODA支出総額上位5か国の実績



[外務省ホームページより作成]

資料6 資料5の5か国のODAの国民1人あたり負担額（ドル）

国名	2012年	2020年
ドイツ	176.0	387.5
イギリス	227.2	286.6
フランス	212.0	285.2
日本	146.3	160.5
アメリカ合衆国	98.9	108.9

[外務省ホームページなどより作成]

ノート

社会資本への支援例

対象国	インド
事業の内容	都市の鉄道整備
お金のおもな使い方	地下鉄と地上・高架鉄道からなる大量高速輸送システムの建設など
成果	交通渋滞が緩和され、大気汚染が抑制された。

マイクロクレジットへの支援例

対象国	バングラデシュ
事業の内容	貧困層へのお金の貸し出し
お金のおもな使い方	起業するための物品購入など
成果	家畜の増加、生産資産（かんがい用ポンプなど）の増加、運送業・手工業などの起業の増加や雇用機会の改善など

[外務省ホームページなどより作成]

(1) 下線部④について、正しく説明しているものを、次のアからエまでのの中から1つ選びなさい。

- ア 国家が、軍事力によって自国の国土と国民を守るという考え方。
- イ 人間一人一人に着目して、その生命や尊厳を守るという考え方。
- ウ 人々が、仕事上の責任を果たしつつ、仕事と生活の調和を実現するという考え方。
- エ 政府や君主が行使する政治権力を、憲法によって制限しようとする考え方。

(2) 下線部⑤に関連して、資料5、資料6から読み取れることとして正しいものを、次のアからエまでのの中から1つ選びなさい。

- ア 2020年のODA支出総額上位2か国は、2020年の国民1人あたり負担額においても上位2か国となっている。
- イ 2020年のODA支出総額上位5か国は、いずれの国も2012年から2020年にかけてODA支出総額が増え続けている。
- ウ 2020年のODA支出総額上位5か国のうち、ヨーロッパの国はいずれも2012年から2020年にかけて国民1人あたり負担額が50ドル以上増えている。
- エ 2020年のODA支出総額上位5か国のうち、2020年のODA支出総額が2012年と比べて2倍以上に増えている国は3か国ある。

(3) 下線部⑥の目的について、話し合い、ノートを参考にして、「収入」という語句を用いて、35字以上、45字以内で説明しなさい。

社会 解答用紙

受検番号	
------	--

※印の欄には何も記入しないこと。

1	1				
	2				
	3				
※	4	誤っている語句の記号		正しい語句	
		誤っている語句の記号		正しい語句	
5	(1)				
	(2)				
	(3)				

2	(1)				
	(2)	誤っている語句の記号		正しい語句	
	(3)				
	(4)				
	(5)	→	→	→	

3	1	(1)			
		(2)			
	2	(1)			
(2)					
(3)					
3	(3)				

※
