

受検番号

平 25

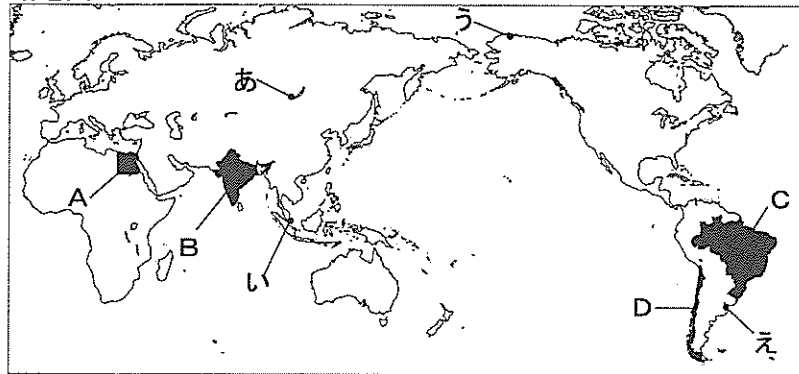
社会

- 1 答えは、すべて、解答用紙の決められた欄に書き入れなさい。
- 注意 2 与えられたいくつかの事項のうちから答えを選ぶ場合は、記号で書きなさい。
- 3 問題用紙は2枚あります。

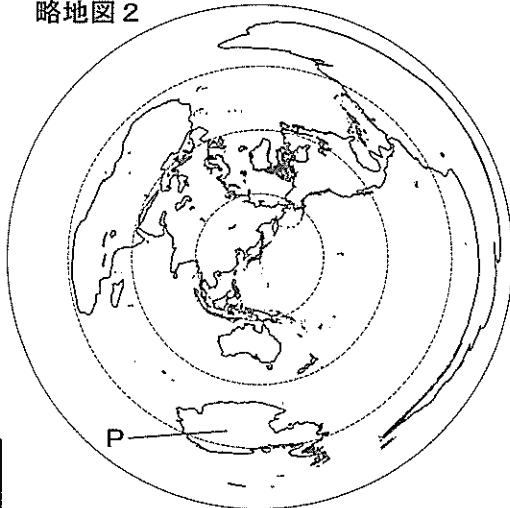
1 次の略地図1、2、資料1～3、図、表、地形図を見て、後の1、2の問いに答えなさい。

1 略地図1、2、資料1、2を見て、次の(1)～(4)の問いに答えなさい。

略地図1



略地図2



(1) 資料1があらわす気候帯と、同じ気候帯に属する都市を、略地図1のあ～えから1つ選びなさい。

(2) 資料2は、略地図1のA～Dの国の面積に占める、土地利用の割合について示したものである。資料2のIVにあてはまる国を、略地図1のA～Dから1つ選びなさい。

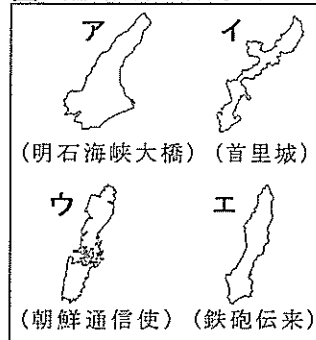
(3) 略地図1と、東京からの距離と方位が正しい略地図2を見て、東京から略地図1のA～Dの国へ移動した場合について、正しく説明しているものを次のア～エから1つ選びなさい。ただし、地球1周は約4万kmとする。

- ア 最短距離でA国に向かうと、インド洋を越え、本初子午線(経度0度)を通過する。
- イ 北西の方向に進み、インド洋を通過し、東京から約5,000kmでB国に到着する。
- ウ 北東の方向に進み、太平洋を通過し、東京から約1万kmでC国に到着する。
- エ 最短距離でD国まで15,000km以上あり、太平洋上で日付変更線を通過する。

(4) 略地図2のPの大陸は、樹木が育たない気候帯に属している。その気候帯の特徴を書きなさい。

2 図、資料3、表、地形図を見て、次の(1)～(5)の問いに答えなさい。ただし、図のア～エは、島の形と、その島に関係することがらを()内に示したものであり、島はそれぞれ資料3の①～④の県の一部である。

図 (縮尺は同一ではない)



資料3

県	面積 (km ²) (2010年)	人口 (千人) (2010年)	県庁所在地の気温と降水量				海上輸送量 (輸出) (千t) (2009年)
			気温 (°C)		降水量 (mm)		
			1月	8月	1月	8月	
①	4,105	1,427	7.0	27.9	64.0	195.4	338
②	8,396	5,588	5.8	28.3	37.8	90.9	23,002
③	9,189	1,706	8.5	28.5	77.5	223.0	227
④	2,276	1,393	17.0	28.7	107.0	240.5	1,028

※海上輸送量(輸出):その県内の港を利用して船で輸出された貿易貨物の量。 [「データで見る県勢2012」,「平成24年 理科年表」より作成]

表

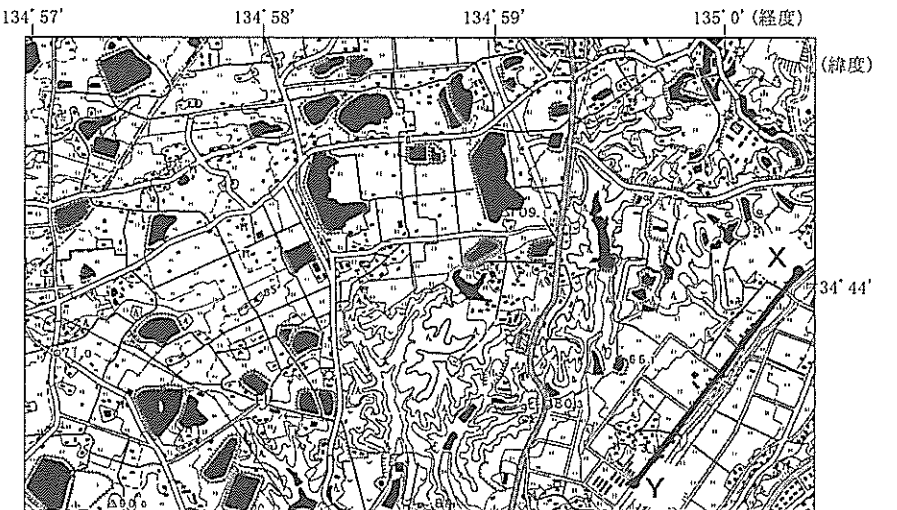
	日米修好通商条約	海上輸送量(輸出)	
		100万t以上	100万t未満
ある	あり	a	b
ない	なし	c	d

- (1) 日本海に位置している島を、図のア～エから1つ選びなさい。
- (2) 図のイの島がある県を、資料3の①～④から1つ選びなさい。
- (3) 資料3の①～④の県を、表のように、「日米修好通商条約により開かれた港があるか、ないか」と、「海上輸送量(輸出)が100万t以上か、未満か」で、a～dの4つに分類すると、それぞれに1つずつの県があてはまる。bにあてはまる県名を書きなさい。

(4) 地形図の右下に示した、地点Xと地点Yを結ぶ線の長さは36mmである。実際の距離は何kmか。書きなさい。ただし、標高差は考えないものとする。

(5) 地形図は、資料3の②の県の一部であり、●で示したところは、ため池である。②の県名を書き、ため池が多くつくられた理由を、資料3、地形図を参考にして書きなさい。

地形図 (縮尺1:50,000)



[国土地理院1:50,000地形図(平成10年発行)より作成]

2 表1は日本で使われた貨幣についてまとめたものである。後の1、2の問いに答えなさい。

表1

	古代	中世	近世	近代
A				
	Aは富本銭です。日本最古の貨幣といわれています。流通していたと断定できる証拠は見つかっていません。	Bは宋銭のひとつです。中国から輸入した貨幣は、商業の発達により、広く使われるようになりました。	Cは寛永通宝です。1636年から使われました。幕府は寛永通宝など貨幣の発行と、貿易の統制を行いました。	Dは20円金貨です。政府が定めた貨幣制度により、1871年から使われました。政府は1873年から、税を現金で納めさせました。

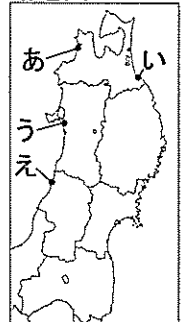
1 表1、略地図、資料1、2を見て、次の(1)～(7)の問いに答えなさい。

- (1) 貨幣Aがつくられたところと同じところのできごとを、次のア～エから1つ選びなさい。
 - ア 中国や朝鮮半島から渡来した人々により、九州北部に稲作が伝えられた。
 - イ 国内は小さな国々に分かれ、それらの王の中には中国の漢に使いを送る者がいた。
 - ウ 唐にならって律令がつくれ、天皇を中心とする国づくりが進められた。
 - エ 藤原氏による摂関政治が行われ、地方の政治は国司にまかされていた。

(2) Bなど、中国から輸入した貨幣は蝦夷地にも広まっていた。中世における、蝦夷地との交易の拠点であった十三湊の場所を、略地図のあ～えから1つ選びなさい。

- (3) 中世の日本では、Bなどの中国の貨幣が大量に使われており、経済や産業が発達した。この時代の特徴を右の□の①～④から2つ選んだとき、正しい組み合わせを、次のア～エから1つ選びなさい。
 - ア ①と③
 - イ ②と④
 - ウ ①と④
 - エ ②と③

略地図



- ①米と麦の二毛作の普及
- ②備中ぐわや干鰯の利用
- ③同業者による座の設立
- ④工場制手工業の開始

受検番号

平 25

社会

(4) 貨幣Cが使われはじめたころ、貿易を統制するため、幕府が長崎につくった人工の島を何というか。漢字で書きなさい。

(5) 貨幣Cが使われはじめてから、貨幣Dが使われはじめるまでの期間におこったできごととしてあてはまるものを、次のア～オから3つ選び、年代の古い順に書きなさい。

- ア インドで、イギリスの支配に対する大反乱がおこった。
イ イギリスで名誉革命がおこり、議会政治の基礎がつけられた。
ウ ロシアで革命がおこり、5年後に国名をソビエト社会主義共和国連邦(ソ連)とした。
エ ワットが、蒸気機関を改良した。
オ バスコ=ダ=ガマが、インド航路を発見した。


(6) 貨幣Dが使われはじめた年に、日本政府は日清修好条規を結んだ。資料1は、この条規の一部である。日清修好条規は、幕末に日本が欧米諸国との間で結んだ条約と、どのような点で異なるか。書きなさい。

(7) 資料2の像は東大寺にある。この像がつけられた時代の文化の特徴を、次のア～エから1つ選びなさい。また、そのころに多く使われていた貨幣を、表1のア～Dから1つ選びなさい。
ア 文学が発展し、夏目漱石や樋口一葉らが作品をのこした。
イ 『万葉集』や『古事記』、『日本書紀』が編さんされた。
ウ 町人の文化が栄え、川柳や狂歌、浮世絵が流行した。
エ 武士や民衆に文化が広がり、琵琶法師により『平家物語』が語られた。

資料1

第八条 日清両国の貿易港には、互いに領事官を置き、自国の商人の取り締まりを行うこと。財産や土地などの訴訟に関する裁判をおこない、互いに自国の法律に照らし合わせて裁くこと。[一部要約]

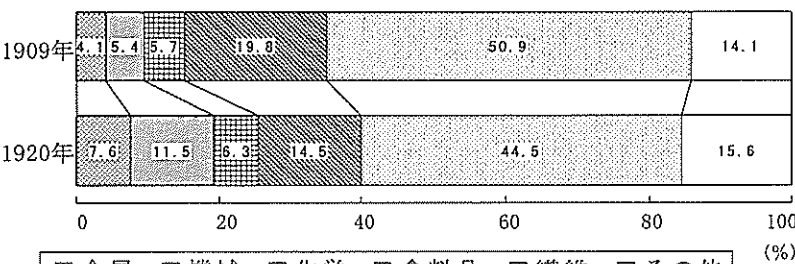
資料2



2 表2は貨幣Dが使われはじめてからの年表である。表2と資料3を見て、次の(1)～(3)の問いに答えなさい。

Table 2: Chronology from 1871 to 1973. Key events include the Meiji Constitution, WWI, League of Nations, and the oil crisis.

資料3 製造品出荷額の内訳

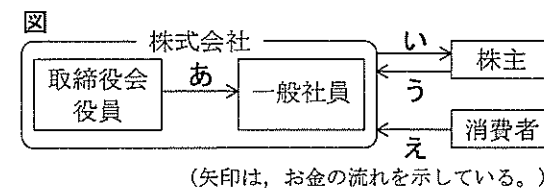


[「数字で見る日本の100年」より作成]

- (1) ニューヨークで株価が暴落し、世界恐慌が始まった年があてはまるのは、どの時期か。表2のあ～えから1つ選びなさい。
(2) 資料3のように、20世紀になると日本の工業には大きな変化が見られた。表2から、その変化と関係するできごとを取り上げ、日本の工業にどのような変化がおこったか、書きなさい。
(3) 表2のえの時期には、日本の経済が著しく成長した。えの時期にあてはまるできごとを、次のア～エから2つ選びなさい。
ア 株や土地の価格が上がり、バブル経済といわれる好景気となった。
イ 名神高速道路が開通し、東京でオリンピックが開かれた。
ウ 大気汚染などの公害が深刻化し、公害対策基本法が制定された。
エ サッカーの世界カップが、韓国との共催で開催された。

3 公民の授業で、A～D班に分かれて調べ学習を行った。図、資料1～6を見て、後の1～4の問いに答えなさい。

1 A班は、企業を訪問して会社のしくみや取り組みについて調べた。図はしくみをまとめたものであり、資料1は、企業の方が説明された言葉の一部である。次の(1)～(3)の問いに答えなさい。



(1) 株式会社の「配当(金)」にあてはまる流れを、図の矢印あ～えから1つ選びなさい。

(2) 資料1の下線部①をあらわしているものを、次のア～エから1つ選びなさい。

- ア 流通量 イ 生産量
ウ 需要量 エ 供給量

(3) 資料1の下線部②が行われないように監視する機関は何か。機関名を書きなさい。

資料1

製品の価格は、①みなさんが買いたいと考える量と、私たちが売ろうとする量の関係で変化します。②同業者が相談して価格を決めることなどは、禁止されています。多くの利益を得るためには、よりよいものをつくるための努力が必要です。

2 B班は、司法制度について調べた。次の(1)、(2)の問いに答えなさい。

(1) 裁判官は、裁判を公正に行うために、在任中の身分が保障されているが、裁判官を罷免することができるものを、次のア～エから1つ選びなさい。

- ア 国会議員による弾劾裁判 イ 国民による解職請求(リコール)
ウ 内閣の助言と承認による国事行為 エ 最高裁判所による判決

(2) わが国では、21世紀に入り、司法制度の改革が進められてきた。次の①、②の問いに答えなさい。

① わが国では、裁判に時間がかかる、相談する人が身近にいないなどから、司法制度の改革が進められてきた。その理由は何か。資料2を参考にして書きなさい。

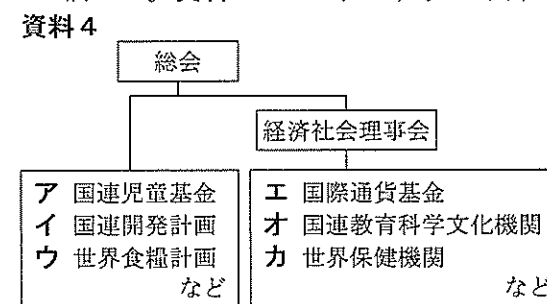
② 2009年に始まった裁判員制度は、どのようなことを期待して始められたか。説明しなさい。

資料2 人口10万人あたりの人数 (2002年)(単位:人)

Table with 4 columns: Country, Judge, Prosecutor, Lawyer. Rows for Japan, France, and America.

[「裁判所データブック2003」より作成]

3 C班は、国際連合について調べた。資料3～5を見て、次の(1)、(2)の問いに答えなさい。



資料5 第1条 すべての人間は、生まれながらにして自由であり、かつ、尊厳と権利について平等である。人間は、理性と良心とを授けられており、互いに同胞の精神をもって行動しなければならない。[外務省仮訳文より引用]

(1) 資料3は、国際連合の機関が行っている援助活動の場面である。この活動をしている機関を、国際連合のしくみの一部を示した資料4のア～カから1つ選びなさい。

(2) 資料5は、1948年に国際連合で採択された宣言文の一部である。この宣言文をもとに、1966年に国際連合で採択された規約は何か。書きなさい。

4 D班は、滋賀県が推進している環境こだわり農産物の取り組みについて調べた。資料6は、滋賀県が認証した農産物に付けられるマークである。この取り組みにはどのような目的があると考えられるか。資料6を参考にして、2つ書きなさい。





平 2 5

社 会

解 答 用 紙

受 検 番 号

※印の欄には何も記入しないこと。

1

※

1	(1)		(2)		(3)	
	(4)					
2	(1)			(2)		
	(3)			(4)	km	
	(5)	(県名)				
		(理由)				

2

※

1	(1)		(2)		(3)	
	(4)			(5)	→	→
	(6)					
	(7)	(特徴)		(貨幣)		
2	(1)					
	(2)					
	(3)					

3

※

1	(1)		(2)		(3)	
2	(1)					
	(2)	①				
		②				
3	(1)			(2)		
4						※